





學習單

國小版

- () 1. 地圖中有許多有趣的符號，下列哪個符號代表「溫泉」呢？
(A)  ; (B)  ; (C)  ; (D) 
- () 2. 地圖的基本要素包括：
(A)比例尺；(B)圖例；(C)方位標；(D)以上皆是
- () 3. 臺灣的行政區域劃分歷經好幾次的調整，下列哪一個不是目前的直轄市？
(A)桃園市；(B)新竹市；(C)高雄市；(D)臺中市
- () 4. 世界分為七大洲，包括：
(A)亞洲；(B)歐洲；(C)南極洲；(D)以上皆是
- () 5. 小秀住在桃園，要開車去探望住在苗栗的爺爺奶奶，請問她應該往哪個方向行駛？
(A)北方；(B)西方；(C)南方；(D)東方

6. 右邊這張是王小明住家附近的地圖，請你也來試著畫出你家附近的地圖，並且跟同學分享住家附近的景物或有趣的事情。



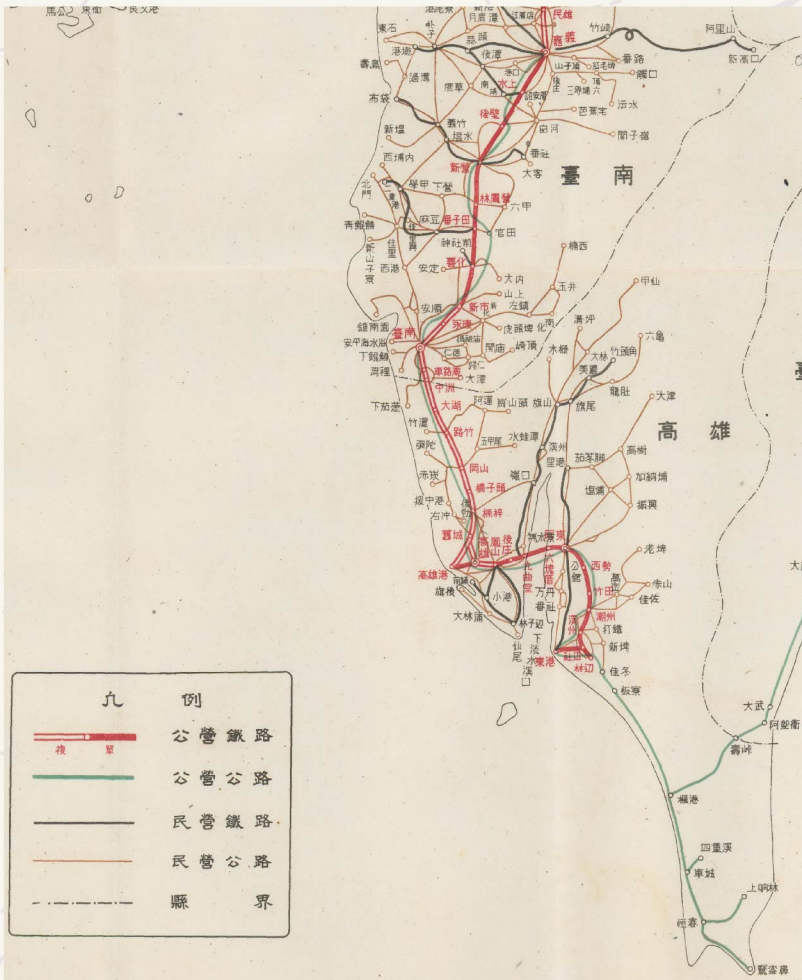
學習單

國小版

與地的時空對話

A Dialogue with Maps

國家檔案地圖中的故事



7. 住在嘉義的朱小玉在地圖檔案展覽中看到一張民國35年的臺灣省鐵路及公路地圖，如果當時全家人想要去恆春旅行，應該要如何安排交通路線呢？